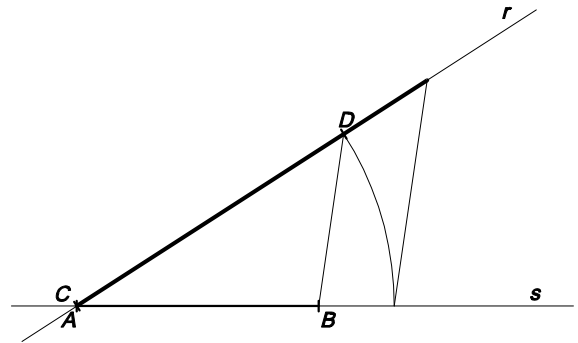

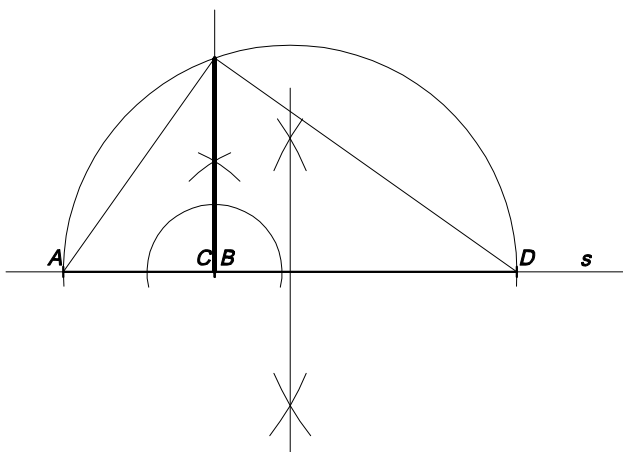
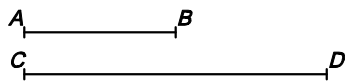


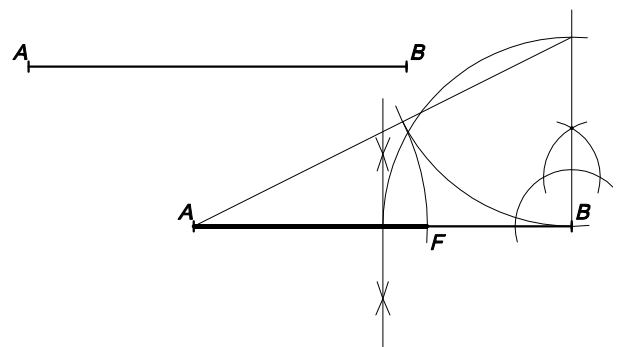
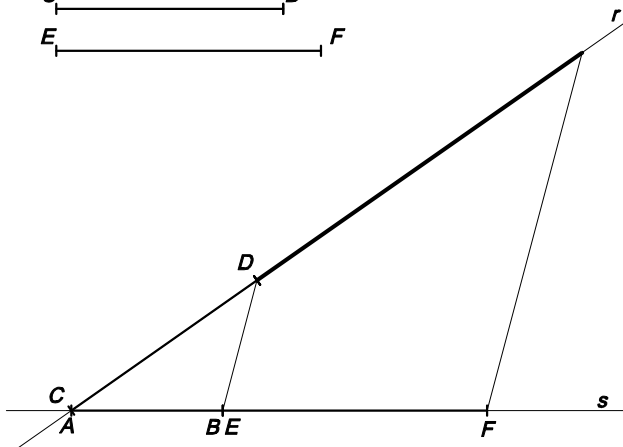
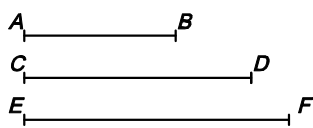
1- DONATS DOS SEGMENTS, DETERMINAR-NE LA SUMA I LA DIFERÈNCIA

2- DIVISIÓ D'UN SEGMENT EN UN NOMBRE DE PARTS IGUALS



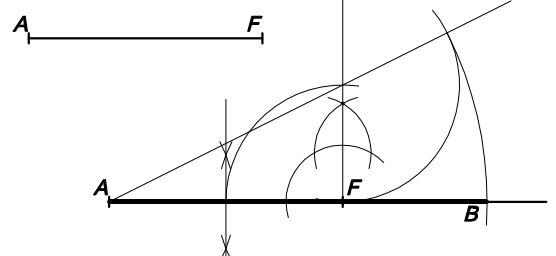
3- CONSTRUCCIÓ DEL SEGMENT QUE SIGUI LA MITJANA PROPORCIONAL A DOS SEGMENTS DONATS

4- CONSTRUCCIÓ DE LA TERCERA PROPORCIONAL A DOS SEGMENTS DONATS



5- CONSTRUCCIÓ DE LA QUARTA PROPORCIONAL A TRES SEGMENTS DONATS

6- DONAT UN SEGMENT, DETERMINAR-NE LA DIVISIÓ ÀURIA



7- DETERMINACIÓ DEL SEGMENT LA DIVISIÓ ÀURIA DEL QUAL SIGUI UN SEGMENT DONAT

IES JAUME HUGUET - ANTIGA ESCOLA DEL TREBALL - ÀREA DE VISUAL I PLÀSTICA - Professor: Jesús Moreno