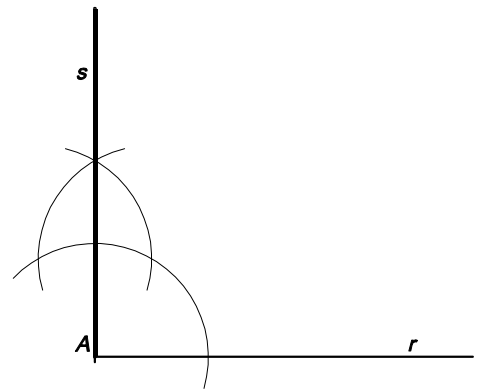
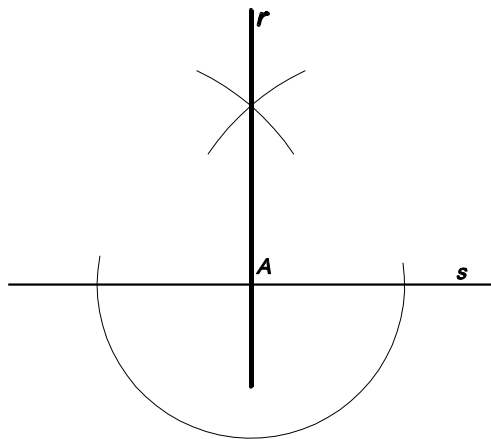


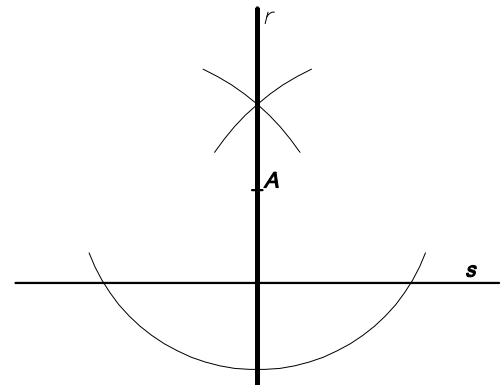
1- TRAÇAT DE LA MEDIATRIU D'UN SEGMENT



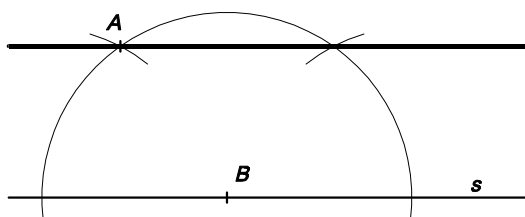
2- TRAÇAT DE LA PERPENDICULAR A UNA SEMIRECTA PER L'EXTREM



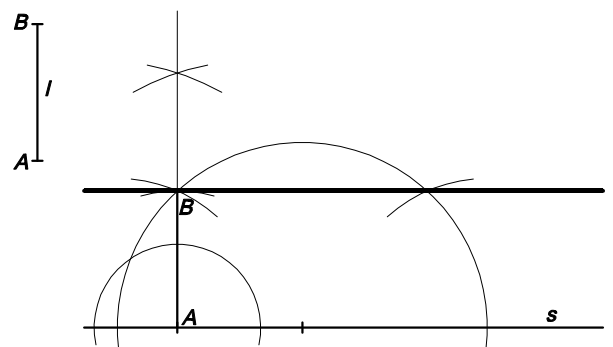
3- TRAÇAT DE LA PERPENDICULAR A UNA RECTA PER UN DELS SEUS PUNTS



4- TRAÇAT DE LA PERPENDICULAR A UNA RECTA PER UN PUNT EXTERIOR A LA RECTA



5- TRAÇAT DE LA PARAL·LELA A UNA RECTA PER UN PUNT



6- TRAÇAT DE LA PARAL·LELA A UNA RECTA A UNA DISTÀNCIA DONADA